

제 2 교시

수학 영역

5지선다형

8. 다항함수 $f(x)$ 가

$$\lim_{x \rightarrow \infty} \frac{x^3 - f(x)}{x^2} = 3, \lim_{x \rightarrow 1} \frac{f(x) - 2}{x - 1} = 2$$

일 때, $f(3)$ 의 값은? [3점]

- ① 8 ② 10 ③ 12 ④ 14 ⑤ 16

주어진 첫 번째 극한에서 $x^3 - f(x) = 3x^2 + ax + b$ 를 알 수 있으므로, $f(x) = x^3 - 3x^2 - ax - b$ 이다.

주어진 두 번째 극한에서 극한값이 존재하려면 $f(1) = 2$ 여야 하고, $f'(1) = 2$ 이다.

$$f(1) = -a - b - 2 = 2 \text{ 이고, } f'(1) = -3 - a = 2 \text{ 이므로}$$

$$a = -5, b = 1 \text{ 이다.}$$

$$\text{따라서 } f(x) = x^3 - 3x^2 + 5x - 1 \text{ 이고, } f(3) = 14 \text{ 이다.}$$

참고) $f(1) = 2, f'(1) = 2$ 이므로

$$f(x) = (x-1)^3 + a(x-1)^2 + 2(x-1) + 2 \text{ 이고,}$$

$f(x)$ 의 이차항의 계수가 -3 이므로 $a = 0$ 이다.

$$\Rightarrow f(x) = (x-1)^3 + 2(x-1) + 2$$

9. 최고차항의 계수가 1인 이차함수 $f(x)$ 에 대하여 두 그래프

$$y = f(x) \text{와 } y = xf(x) + \frac{3}{4} \text{가 } y \text{축표가 } 1 \text{인 점 } A \text{에서 만나고,}$$

이 점에서의 두 곡선의 접선은 서로 수직이다. $f(2)$ 의 값은?

[4점]

- ① $\frac{1}{16}$ ② $\frac{3}{16}$ ③ $\frac{5}{16}$ ④ $\frac{7}{16}$ ⑤ $\frac{9}{16}$

점 A의 x 좌표를 a 라 할 때,

$$f(a) = 1 \text{ 이고 } af(a) + \frac{3}{4} = 1 \text{ 이므로 } a = \frac{1}{4} \text{ 이다.}$$

또한 점 A에서 두 곡선의 접선은 서로 수직이므로

$$f'(a) \times \{af'(a) + f(a)\} = -1 \text{ 이고, 정리하면 } f'(a) = -2 \text{ 이다.}$$

$$\text{따라서 } f(a) = f\left(\frac{1}{4}\right) = 1 \text{ 이고, } f'(a) = f'\left(\frac{1}{4}\right) = -2 \text{ 이므로}$$

$$f(x) = \left(x - \frac{1}{4}\right)^2 - 2\left(x - \frac{1}{4}\right) + 1 \text{ 이다.}$$

$$\text{그러므로 } f(2) = \frac{9}{16} \text{ 이다.}$$

10. 수열 $\{a_n\}$ 이 모든 자연수 n 에 대하여

$$a_{n+1} = \begin{cases} a_n^2 - a_n & (a_n \leq -1) \\ a_n - 7 & (a_n > -1) \end{cases}$$

이다. $a_4 - a_2 = 1, a_5 > 0$ 일 때, $a_1 + a_3 + a_6$ 의 값은? [4점]

- ① 2 ② 4 ③ 6 ④ 8 ⑤ 10

1) $a_2 > -1$ 인 경우

$$a_3 = a_2 - 7 \text{ 이고,}$$

$$a_4 = (a_2 - 7)^2 - (a_2 - 7) \text{ (단, } a_2 - 7 \leq -1)$$

또는 $a_4 = a_2 - 7$ (단, $a_2 - 7 > -1$) 이다.

주어진 조건에 의해 $a_4 - a_2 = 1$ 이므로 $a_4 = (a_2 - 7)^2 - (a_2 - 7)$ 이고, (단, $a_2 \leq 6$)

$$a_4 - a_2 = (a_2 - 7)^2 - (a_2 - 7) - a_2 = 1 \text{ 이다.}$$

이를 만족시키는 $-1 < a_2 \leq 6$ 인 a_2 의 값은 $a_2 = 5$ 이고,

이 경우 $a_3 = 5 - 7 = -2, a_4 = (-2)^2 - (-2) = 6, a_5 = 6 - 7 = -1$ 이므로 $a_5 > 0$ 을 만족하지 않는다.

따라서 $a_2 \leq -1$ 이다.

2) $a_2 \leq -1$ 인 경우

$$a_3 = (a_2)^2 - a_2 \geq 2 \text{ 이므로 } a_4 = (a_2)^2 - a_2 - 7 \text{ 이다.}$$

또한 $a_4 - a_2 = (a_2)^2 - a_2 - 7 - a_2 = 1$ 을 만족시키는 $a_2 \leq -1$ 인

a_2 의 값은 $a_2 = -2$ 이고,

이때 $a_3 = (-2)^2 - (-2) = 6, a_4 = 6 - 7 = -1, a_5 = (-1)^2 - (-1) = 2$ 이므로 $a_5 > 0$ 을 만족시킨다.

$$a_6 = -2 \text{ 이므로 가능한 } a_1 \text{의 값은 } a_1 = (-2) + 7 = 5 \text{ 이고,}$$

$$a_3 = 6, a_6 = 2 - 7 = -5 \text{ 이므로}$$

$$a_1 + a_3 + a_6 = 5 + 6 + (-5) = 6 \text{ 이다.}$$

11. 최고차항의 계수가 1이고 $f(3)=1$ 인 삼차함수 $f(x)$ 가 다음 조건을 만족시킬 때, $f(5)$ 의 값은? [4점]

$x_1 < 2 < x_2$ 인 모든 실수 x_1, x_2 에 대하여 $f(x_1)f(x_2)+1 \leq f(x_1)+f(x_2)$ 이다.

- ① 11 ② 13 ③ 15 ④ 17 ⑤ 19

Step1 주어진 부등식 해석

$f(x_1)f(x_2) - f(x_1) - f(x_2) + 1 = (f(x_1)-1)(f(x_2)-1)$ 이므로

$x_1 < 2 < x_2$ 인 모든 실수 x_1, x_2 에 대하여

$(f(x_1)-1)(f(x_2)-1) \leq 0$ 이다.

즉, $x < 2$ 일 때 $f(x) \leq 1$ 이고

$x > 2$ 일 때 $f(x) \geq 1$ 인 경우거나,

$x < 2$ 일 때 $f(x) \geq 1$ 이고

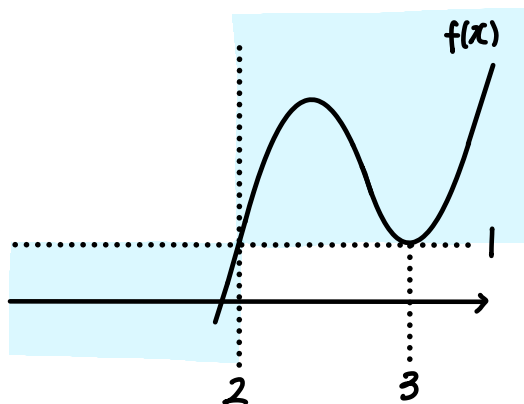
$x > 2$ 일 때 $f(x) \leq 1$ 인 경우이다.

이때 $f(x)$ 는 최고차항의 계수가 양수인 삼차함수이므로 $x \rightarrow \infty$ 일 때 $f(x) \rightarrow \infty$ 이고,

따라서 $x < 2$ 일 때 $f(x) \leq 1$ 이고, $x > 2$ 일 때 $f(x) \geq 1$ 이다.

그러므로 $f(2) = 1$ 이다.

Step2



주어진 조건에 의해 $f(3) = 1$ 인데, $x=3$ 주위에서 $f(x)-1$ 의 부호가 바뀌면 안되므로 $f'(3) = 0$ 이다.

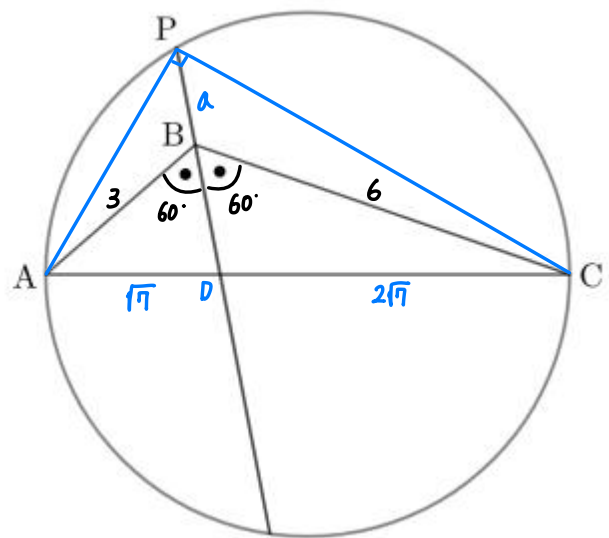
따라서 $f(x) = (x-2)(x-3)^2 + 1$ 이고, $f(5) = 13$ 이다.

12. 그림과 같이

$\overline{AB} = 3, \overline{BC} = 6, \angle B = \frac{2}{3}\pi$

인 삼각형 ABC에 대하여, 선분 AC를 지름으로 하는 원과 $\angle B$ 의 이등분선이 만나는 두 점 중 점 B와 가까운 점을 P라 하자. 선분 BP의 길이는? [4점]

- ① $\frac{9}{8}$ ② $\frac{5}{4}$ ③ $\frac{11}{8}$ ④ $\frac{3}{2}$ ⑤ $\frac{13}{8}$



Step1

선분 AC와 직선 BP의 교점을 점 D라 하고,

선분 AP와 선분 CP를 그려보자.

$\triangle ABC$ 에서 코사인법칙을 사용하면,

$(\overline{AC})^2 = 3^2 + 6^2 - 2 \times 3 \times 6 \times (-\frac{1}{2}) = 63$ 이므로 $\overline{AC} = 3\sqrt{7}$ 이다.

이때 $\triangle ABC$ 에서 선분 BD는 각 B의 이등분선이므로,

$\overline{AB} : \overline{BC} = \overline{AD} : \overline{CD}$ 이다.

따라서 $\overline{AC} = 3\sqrt{7}$ 이고, $\overline{AD} : \overline{CD} = 1 : 2$ 이므로

$\overline{AD} = \sqrt{7}, \overline{CD} = 2\sqrt{7}$ 이다.

Step2

$\overline{BP} = a$ 라 하자.

$\triangle ABP$ 에서 코사인법칙을 사용하면,

$(\overline{AP})^2 = 3^2 + a^2 - 2 \times 3 \times a \times (-\frac{1}{2})$ 이고,

$\triangle BCP$ 에서 코사인법칙을 사용하면,

$(\overline{CP})^2 = 6^2 + a^2 - 2 \times 6 \times a \times (-\frac{1}{2})$ 이다.

이때 $\triangle ACP$ 에서 선분 AC는 주어진 원의 지름이므로 $\angle APC = 90^\circ$ 이다.

따라서 $(\overline{AC})^2 = (\overline{AP})^2 + (\overline{CP})^2$ 이므로

$(3\sqrt{7})^2 = \{3^2 + a^2 - 2 \times 3 \times a \times (-\frac{1}{2})\} + \{6^2 + a^2 - 2 \times 6 \times a \times (-\frac{1}{2})\}$

이고,

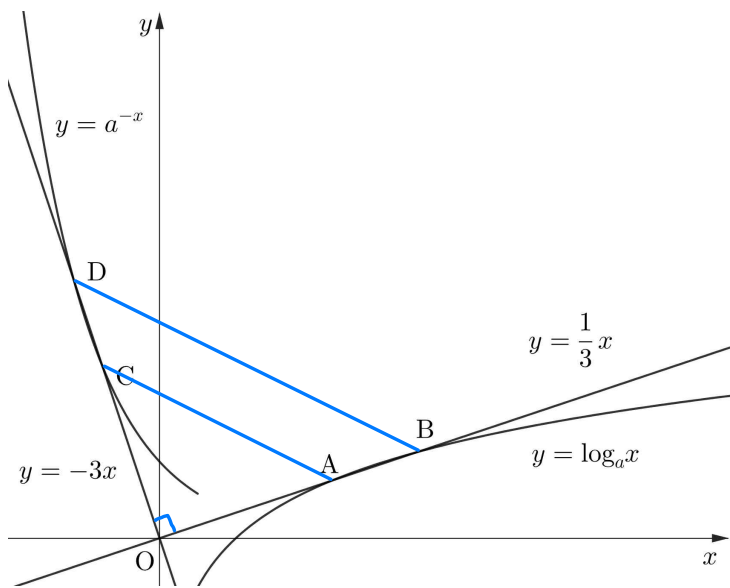
정리하면 $2a^2 + 9a - 18 = 0$ 이므로 $a = \overline{BP} = \frac{3}{2}$ 이다.

13. 상수 $a(a > 1)$ 에 대하여 곡선 $y = \log_a x$ 와 직선 $y = \frac{1}{3}x$ 가
 만나는 두 점을 A, B($\overline{OA} < \overline{OB}$)라 하고, 곡선 $y = a^{-x}$ 와
 $y = -3x$ 가 만나는 두 점을 C, D($\overline{OC} < \overline{OD}$)라 하자.

(삼각형 OAC의 넓이) : (사각형 ABDC의 넓이) = 4 : 5

일 때, a 의 값은? (단, O는 원점이다.) [4점]

- ① $\left(\frac{3}{2}\right)^{\frac{2}{3}}$ ② $\left(\frac{3}{2}\right)^{\frac{5}{3}}$ ③ $\left(\frac{3}{2}\right)^{\frac{8}{3}}$ ④ $\left(\frac{5}{2}\right)^{\frac{5}{3}}$ ⑤ $\left(\frac{5}{2}\right)^{\frac{8}{3}}$



Step1

주어진 조건에 의해 $[\triangle OAC] : [\triangle OBD] = 4 : 9$ 임을 알 수 있다.
 $y = -3x$ 를 원점에 대해 90° 회전시키면 $y = \frac{1}{3}x$ 가 되고,
 $y = a^{-x}$ 를 원점에 대해 90° 회전시키면 $y = \log_a x$ 가 된다.
 따라서 $\overline{OA} = \overline{OC}$, $\overline{OB} = \overline{OD}$, $\angle AOC = 90^\circ$ 이므로
 $\triangle AOC$ 와 $\triangle BOD$ 는 직각이등변삼각형이다.
 그러므로 $\triangle OAC \sim \triangle OBD$ 이고, 넓이비가 4 : 9 이므로 길이비는
 2 : 3 이다.

Step2

점 A와 B는 직선 $y = \frac{1}{3}x$ 위의 점이고, 선분 OA와 선분 OB의
 길이비가 2 : 3 이므로,
 점 A의 좌표를 $(6P, 2P)$, 점 B의 좌표를 $(9P, 3P)$ 라 하자.
 점 A와 B는 $y = \log_a x$ 위의 점이므로
 $2P = \log_a 6P$, $3P = \log_a 9P$ 이다.
 따라서 $a^{2P} = 6P$, $a^{3P} = 9P$ 이므로 $a^P = \frac{3}{2}$ 이고, $P = \frac{3}{8}$ 이다.
 그러므로 $a^{\frac{3}{8}} = \frac{3}{2}$ 이므로 $a = \left(\frac{3}{2}\right)^{\frac{8}{3}}$ 이다.

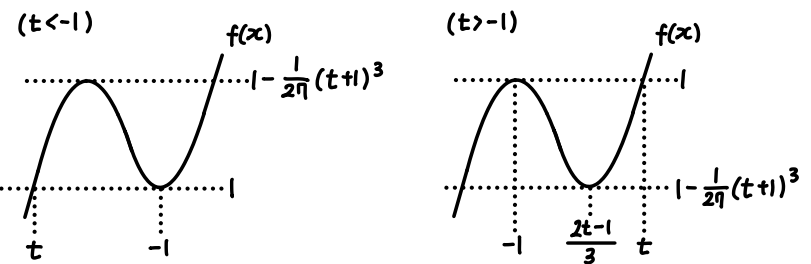
14. 실수 t 와 삼차함수 $f(x) = \frac{1}{4}(x+1)^2(x-t)+1$ 에 대하여
 방정식 $f(f(x))=0$ 의 서로 다른 실근의 개수를 $g(t)$ 라 하자.
 <보기>에서 옳은 것만을 있는 대로 고른 것은? [4점]

- < 보 기 >
- ㄱ. $t < 2$ 이면 $g(t) = 1$ 이다.
 ㄴ. $\lim_{t \rightarrow 2^+} g(t) - \lim_{t \rightarrow 2^-} g(t) = g(2) + 1$
 ㄷ. $g(t) = 3t$ 이도록 하는 실수 t 의 개수는 2이다.

- ① ㄱ ② ㄴ ③ ㄱ, ㄴ
 ④ ㄱ, ㄷ ⑤ ㄱ, ㄴ, ㄷ

Step1

$f(f(x))=0$ 의 서로 다른 실근의 개수는, $f(x)=0$ 의 서로 다른 실근을 x_1, x_2, x_3 라
 했을 때, $f(x)=x_1$ 또는 $f(x)=x_2$ 또는 $f(x)=x_3$ 를 만족시키는 서로 다른 모든 x 의
 개수이다.



Step2

- ㄱ. 1) $t < -1$ 인 경우
 $f(x)=0$ 의 실근은 $x=x_1$ 의 1개이다. (단, $x_1 < -1$)
 이때 $f(x)=x_1$ 의 실근은 1개이기 때문에 $g(t)=1$ 이다.
 2) $t = -1$ 인 경우
 $f(x)=0$ 의 실근은 $x=x_1$ 의 1개이다. (단, $x_1 < -1$)
 이때 $f(x)=x_1$ 의 실근은 1개이기 때문에 $g(-1)=1$ 이다.
 3) $-1 < t < 2$ 인 경우
 $0 < 1 - \frac{1}{2t}(t+1)^3 < 1$ 이므로 $f(x)=0$ 의 실근은 $x=x_1$ 의 1개이다. (단, $x_1 < -1$)
 이때 $f(x)=x_1$ 의 실근은 1개이기 때문에 $g(t)=1$ 이다.
 따라서 $t < 2$ 이면 $g(t)=1$ 이다.

- ㄴ. ㄱ에서 $g(2^-)=1$ 이다.
 $t=2$ 일 때 $f(x)=0$ 의 실근은 $x=-2, x_1$ 의 두 개이고, $f(x)=-2$ 의 실근은 1개,
 $f(x)=1$ 의 실근은 2개이므로 $g(2)=3$ 이다.
 $t \rightarrow 2^+$ 일 때 $f(x)=0$ 의 실근은 $x=x_1, x_2, x_3$ 의 3개이다.
 (단, $t \rightarrow 2^+$ 일 때 $x_1 < -1, 0 < x_2 < \frac{2t-1}{3} < 1, 1 < x_3 < 2$)
 이때 $f(x)=x_1$ 의 실근은 1개, $f(x)=x_2$ 의 실근은 3개, $f(x)=x_3$ 의 실근은 1개
 이므로 $g(2^+)=5$ 이다.
 따라서 $g(2^+) - g(2^-) = g(2) + 1 = 4$ 이므로, ㄴ은 참이다.

- ㄷ. $g(t)$ 의 값은 정수이고, $1 \leq g(t) \leq 9$ 이다.
 $g(\frac{1}{3})=1$
 $g(\frac{2}{3})=1$
 $g(1)=1$
 $g(\frac{4}{3})=1$
 $g(\frac{5}{3})=1$
 $g(2)=2$
 $g(\frac{7}{3}) < 7$
 $g(\frac{8}{3}) < 8$
 $g(3) < 9$
- 이므로 $g(t)=3t$ 이도록 하는 실수 t 는
 $t = \frac{1}{3}$ 의 1개이다.

15. 집합 $A = \{x | x \leq 0\} \cup \{3\}$ 와 수열 $\{a_n\}$ 이 모든 자연수 n 에 대하여

$$a_{n+1} = \begin{cases} a_n + n & (a_n \in A) \quad (a_n \leq 0, a_n = 3) \\ a_n - n & (a_n \notin A) \quad (0 < a_n < 3, a_n > 3) \end{cases}$$

이다. $a_{m+2} < a_{m+1} < a_m$ 을 만족시키는 자연수 m 의 최솟값은 5일 때, $a_{21} - a_1$ 의 값은? [4점]

- ① 20 ② 22 ③ 24 ④ 26 ⑤ 28

Step1

주어진 부등식을 만족시키는 자연수 n 의 최솟값은 5이므로, $a_4 < a_6 < a_5$ 이고, $a_5 \geq a_4$ 이다.

$a_4 = a$ 라 하면,
 $a_5 \geq a_4$ 이므로 $a_5 = a+4$ 이고 $a \leq 0$ 또는 $a = 3$ 이다.
 $a_6 < a_5$ 이므로 $a_6 = a-1$ 이고 $0 < a+4 < 3$ 또는 $a+4 > 3$ 이다.
 $a_7 < a_6$ 이므로 $a_7 = a-7$ 이고 $0 < a-1 < 3$ 또는 $a-1 > 3$ 이다.
 따라서 위 세 조건을 모두 만족시키는 a 의 값은 $a=3$ 이다.
 그러므로 $a_4 = 3, a_5 = 7, a_6 = 2, a_7 = -4$ 이다.

Step2

$a_4 = 3$ 일 때 $a_3 = 6$ 또는 $a_3 = 0$ 이다. 만약 $a_3 = 6$ 이라면 $a_2 = 8$ 이고 $a_1 = 9$ 인데, 이 경우 주어진 부등식을 만족시키는 자연수 m 의 최솟값이 1이므로 모순이다.
 따라서 $a_3 = 0$ 이고, 이때 $a_2 = 2$ 또는 $a_2 = -2$ 인데, 만약 $a_2 = 2$ 라면 가능한 a_1 의 값이 존재하지 않으므로 $a_2 = -2$ 이고, $a_1 = -3$ 이다 또한 $a_7 = -4$ 이므로,
 $a_8 = -4+7=3, a_9 = 3+8=11, a_{10} = 11-9=2, a_{11} = 2-10 = -8$ 이고,
 $a_{12} = -8+11=3, a_{13} = 3+12=15, a_{14} = 15-13=2, a_{15} = 2-14 = -12$ 이며,
 $a_{16} = -12+15=3, a_{17} = 3+16=19, a_{18} = 19-17=2, a_{19} = 2-18 = -16$ 이므로
 $a_{20} = -16+19=3$ 이고, $a_{21} = 3+20=23$ 이다.
 따라서 $a_{21} - a_1 = 23 - (-3) = 26$ 이다.

자연수 k 에 대하여

$$\begin{aligned} a_{4k-3} &= 4k-1 & (k \geq 2) \\ a_{4k-2} &= 2 & (k \geq 2) \\ a_{4k-1} &= -4(k-1) & (k \geq 1) \\ a_{4k} &= 3 & (k \geq 1) \end{aligned}$$

이로 일반화해 a_{21} 의 값을 구할 수도 있다.

단답형

20. 양수 k 에 대하여 삼차함수 $f(x) = \frac{1}{8}x^3 + \frac{1}{8}x + k$ 의 역함수를 $g(x)$ 라 하자. x 에 대한 방정식

$$2f(x) = g\left(\frac{x}{2}\right)$$

의 서로 다른 실근의 개수가 2일 때, $80k$ 의 값을 구하시오.

20 [4점]

Step1

주어진 방정식에 $x = 2f(t)$ 를 대입해보자.
 $2f(2f(t)) = g(f(t))$ 이고, $g(f(x)) = x$ 이므로, $2f(2f(t)) = t$ 이다.
 즉 $h(x) = 2f(x)$ 라 하면, 주어진 방정식은 $h(h(x)) = x$ 와 같다.

Step2

$h(x) = 2f(x) = \frac{1}{4}x^3 + \frac{1}{4}x + 2k$ 이다.
 이때 $h'(x) = \frac{3}{4}x^2 + \frac{1}{4} > 0$ 이므로 $h(x)$ 는 실수 전체의 집합에서 증가한다.
 $h(x) = x$ 의 근을 x_1, x_2, \dots 라 하면,
 $h(h(x)) = x$ 의 근은 $h(x) = x_1, x_2, \dots$ 의 근과 같고,
 $h(x)$ 는 증가함수이므로 $h(h(x))$ 의 근의 개수는 $h(x) = x$ 의 근의 개수와 같다.
 따라서 $h(x) = x$ 의 서로 다른 실근은 2개이다.

Step3

$y = h(x)$ 와 $y = x$ 의 접점의 x 좌표를 p 라 하면, $h'(p) = 1$ 이고 $h(p) = p$ 이다.
 따라서 $h'(p) = \frac{3}{4}p^2 + \frac{1}{4} = 1$ 이므로 $p = -1$ 또는 $p = 1$ 이고,
 $h(p) = \frac{1}{4}p^3 + \frac{1}{4}p + 2k = p$ 이다.
 이때 $p = -1$ 이면 $k = -\frac{1}{4}$ 이므로 k 가 양수라는 조건을 만족하지 않는다.
 그러므로 $p = 1$ 이고, $k = \frac{1}{4}$ 이므로 $80k = 20$ 이다.

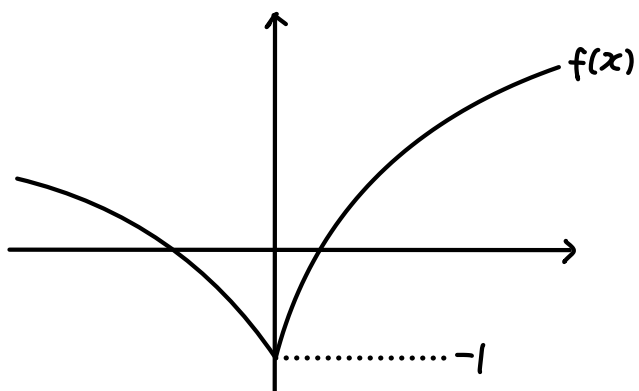
21. 상수 $a(a > 1)$ 와 함수 $f(x) = \log_a(x + 3|x| + \frac{1}{a})$ 에 대하여

방정식 $f(\frac{f(x)}{3}) = 0$ 의 서로 다른 실근의 개수는 3이고

가장 큰 실근은 $\frac{\sqrt{m}-1}{12}$ 이다. m 의 값을 구하시오. [4점] **27**

Step 1

$$f(x) = \begin{cases} \log_a(4x + \frac{1}{a}) & (x \geq 0) \\ \log_a(-2x + \frac{1}{a}) & (x < 0) \end{cases} \text{이다.}$$



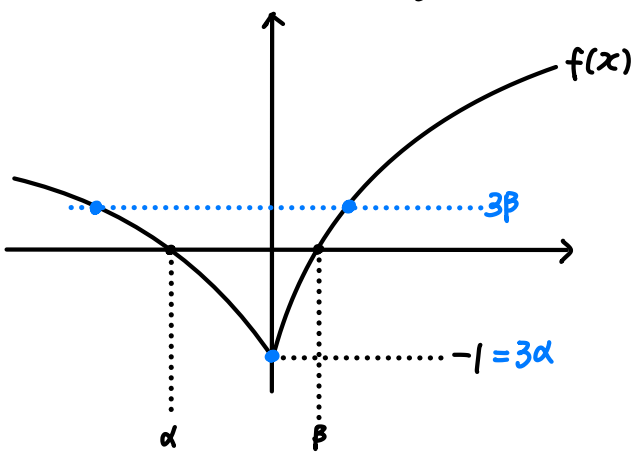
Step 2

$f(x) = 0$ 의 서로 다른 두 실근을 α, β 라 하자. (단, $\alpha < 0 < \beta$)
 $\frac{1}{3}f(x) = \beta$ 의 실근은, $f(x) = 3\beta$ 의 실근과 같으므로 $\frac{1}{3}f(x) = \beta$ 의 실근의 개수는 2개이다.

따라서 $\frac{1}{3}f(x) = \alpha$ 의 실근이 1개여야 하므로, $3\alpha = -1$,

즉 $\alpha = -\frac{1}{3}$ 이다.

또한 $f(\alpha) = 0$ 이므로 $f(\alpha) = \log_a(\frac{2}{3} + \frac{1}{a}) = 0$ 이고, $a = 3$ 이다.



Step 3

$f(\frac{f(x)}{3}) = 0$ 의 가장 큰 실근은, $f(x) = 3\beta$ 의 가장 큰 실근과 같다.

1) β 구하기

$$\log_3(4\beta + \frac{1}{3}) = 0 \text{ 이므로 } \beta = \frac{1}{6} \text{이다.}$$

2) $f(x) = 3\beta$ 의 가장 큰 실근 구하기

$$\log_3(4x + \frac{1}{3}) = \frac{1}{2} \text{의 실근이므로 } x = \frac{3\sqrt{3}-1}{12} \text{이다.}$$

따라서 $m = 27$ 이다.

22. 삼차함수 $f(x)$ 가 다음 조건을 만족시킨다.

함수 $f(x)$ 에 대하여

$$f'(k-1) \times f'(k) \times f'(k+1) < 0$$

을 만족시키는 정수 k 는 존재하지 않는다.

$$f(\frac{1}{2}) = 3, f(2) = 2, f'(\frac{7}{2}) < 0 \text{ 일 때, } f(7) = \frac{q}{p} \text{ 이다. } p+q \text{의}$$

값을 구하시오. (단, p 와 q 는 서로소인 자연수이다.) [4점] **257**

Step 1

만약 $f(x)$ 의 최고차항 계수가 음수라면, $x \rightarrow \infty$ 일 때 $f(x) \rightarrow -\infty$ 일 것이고, 이에 따라 주어진 부등식을 만족시키는 양수 k 의 개수는 무수히 많을 것이므로 $f(x)$ 의 최고차항 계수는 양수이다. 이때 $f'(\frac{7}{2}) < 0$ 이므로 $f'(x) = 0$ 은 서로 다른 두 실근을 가진다.

또한 $[\frac{1}{2}, 2]$ 에서 평균값정리를 적용하면, $f'(c) = (2-3) \div (2-\frac{1}{2}) = -\frac{2}{3} < 0$ 인 실수 c 가 구간 $(\frac{1}{2}, 2)$ 에 존재하고, $f'(c) < 0$ 이므로 최소 $x=2$ 와 $x=3$ 에서 $f'(x) < 0$ 이다.

1) 만약 $f'(x) < 0$ 을 만족하는 정수 x 의 개수가 3개 이상이라면,

$f'(k-1) \times f'(k) \times f'(k+1) < 0$ 을 만족하는 정수 k 가 존재하게 된다.

2) $f'(x) < 0$ 을 만족하는 정수 x 의 개수가 2개이고, 이때 $f'(x) < 0, f'(x+1) < 0$ 이라 하자.

$f'(x-2) > 0$ 이고, $f'(x-1) > 0$ 또는 $f'(x-1) = 0$ 이다. 만약 $f'(x-1) > 0$ 이라면,

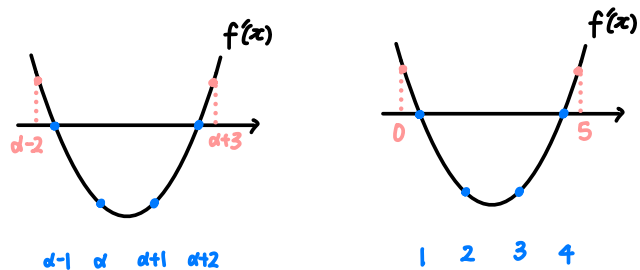
$f'(x-2) \times f'(x-1) \times f'(x) < 0$ 이므로 주어진 조건을 만족하지 않는다.

따라서 $f'(x-1) = 0$ 이다.

또한 $f'(x+2) > 0$ 이고, $f'(x+2) > 0$ 또는 $f'(x+2) = 0$ 이다. 만약 $f'(x+2) > 0$ 이라면,

$f'(x+1) \times f'(x+2) \times f'(x+3) < 0$ 이므로 주어진 조건을 만족하지 않는다.

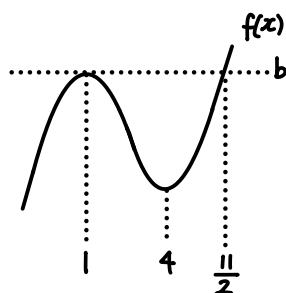
따라서 $f'(x+2) = 0$ 이다.



Step 2

$f(x) = 3a(x-1)(x-4)$ 라 하자. (단, $a > 0$)

삼차함수 비율관계에 의해 $f(x) = a(x-1)^2(x - \frac{11}{2}) + b$ 이다.



이때

$$f(\frac{1}{2}) = a \times (\frac{1}{2}-1)^2 \times (\frac{1}{2} - \frac{11}{2}) + b = 3 \text{ 이고}$$

$$-\frac{5}{4}a + b = 3 \text{ 이고,}$$

$$f(2) = a \times (2-1)^2 \times (2 - \frac{11}{2}) + b = 2 \text{ 이므로}$$

$$-\frac{7}{2}a + b = 2 \text{ 이다.}$$

따라서 $a = \frac{4}{9}$ 이고 $b = \frac{32}{9}$ 이므로

$$f(7) = \frac{4}{9} \times (7-1)^2 \times (7 - \frac{11}{2}) + \frac{32}{9} = \frac{248}{9} \text{ 이다.}$$

그러므로 $p = 9, q = 248$ 이므로 $p+q = 257$ 이다.

* 확인 사항

○ 답안지의 해당란에 필요한 내용을 정확히 기입(표기)했는지 확인하시오.