

수학 영역

홀수형

성명

수험 번호

- 문제지의 해당란에 성명과 수험 번호를 정확히 쓰시오.
- 답안지의 필적 확인란에 다음의 문구를 정자로 기재하십시오.

공부 하기 싫다.

- 답안지의 해당란에 성명과 수험 번호를 쓰고, 또 수험 번호, 문형(홀수/짝수), 답을 정확히 표시하십시오.
- 단답형 답의 숫자에 '0'이 포함되면 그 '0'도 답란에 반드시 표시하십시오.
- 문항에 따라 배점이 다르니, 각 물음의 끝에 표시된 배점을 참고하십시오. 배점은 2점, 3점 또는 4점입니다.
- 계산은 문제지의 여백을 활용하십시오.

※ 공통과목 및 자신이 선택한 과목의 문제지를 확인하고, 답을 정확히 표시하십시오.

- **공통과목** 1~8쪽
- **선택과목**
 - 확률과 통계 9~12쪽
 - 미적분 13~16쪽
 - 기하 17~20쪽

※ 시험이 시작되기 전까지 표지를 넘기지 마시오.

제 2 교시

수학 영역

1

5지선다형

9. 등차수열 $\{a_n\}$ 에 대해, $\sum_{n=1}^5 a_n < 0$ 이고, $|a_3| = a_4 + a_5$ 를 만족시킨다. $\sum_{n=1}^8 a_n = 8$ 일 때, a_{10} 의 값은? [4점]
- ① 4 ② 6 ③ 8 ④ 10 ⑤ 12

$\sum_{n=1}^5 a_n = 5a_3 < 0 \Rightarrow a_3 < 0$

$\Rightarrow |a_3| = -a_3 = a_4 + a_5$

$a_3 + a_4 + a_5 = 0$

$\therefore a_4 = 0$ (등차증항)

$\sum_{n=1}^8 a_n = \underbrace{(a_1 + \dots + a_7)}_{40} + a_8 = 8$
 \downarrow
 $d=2$

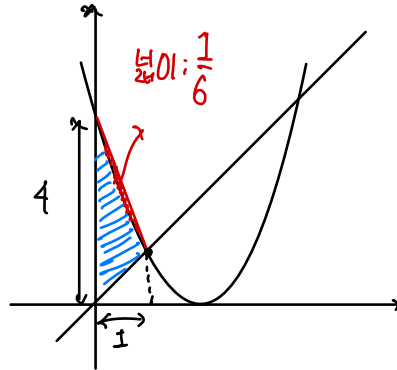
$a_{10} = 12$

10. 이차함수 $f(x) = (x-2)^2$ 에 대해, 직선 $y = mx$ ($m > 0$)와 곡선 $y = f(x)$, y 축으로 둘러싸인 영역의 넓이를 S 라고 하자. 직선 $y = mx$ 와 곡선 $y = f(x)$ 의 두 교점의 x 좌표의 합이 5일 때, S 의 값은? [4점]

- ① 14 ② 13 ③ 12 ④ 11 ⑤ 10

$f(x) - mx = x^2 - (4+m)x + 4$

\Rightarrow 두 근의 합 : 5 $\Rightarrow m=1$



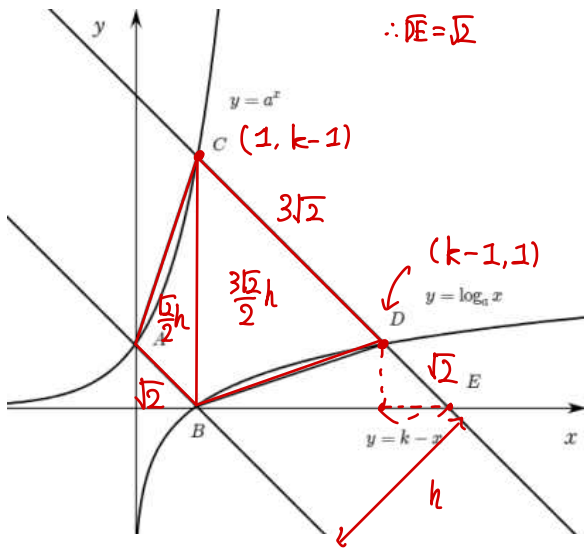
$4 \times 1 \times \frac{1}{2} - \frac{1}{6} = \frac{11}{6}$

$S = 11$

11. 그림과 같이 1보다 큰 양수 a 에 대해 곡선 $y = a^x$, $y = \log_a x$ 가 직선 $y = 1 - x$ 와 만나는 점을 각각 A, B, 직선 $y = k - x$ 와 만나는 점을 각각 C, D 라고 하자. 직선 $y = k - x$ 가 x 축과 만나는 점을 E라고 할 때, 다음을 만족시킨다.

- (가) $\overline{CD} = 3\sqrt{2}$
 (나) 사각형 ABDC의 넓이는 삼각형 BDE의 넓이의 4배이다.

a 의 값은? [4점]

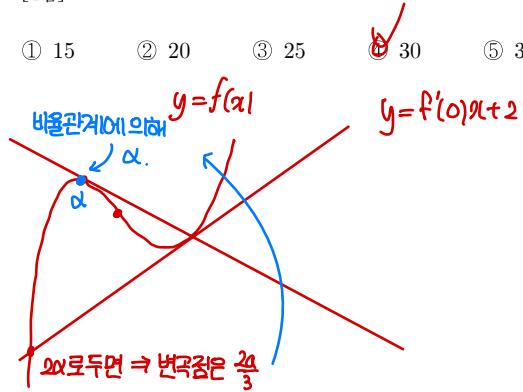


- ① 3 ② 4 ③ 5 ④ 6 ⑤ 7

$\log_a(k-1) = 1,$
 $k-1-1=3 \rightarrow k=5. \quad a=4$

12. 최고차항의 계수가 1이고, $f'(0) \neq 0$ 인, 삼차함수 $f(x)$ 에 대하여 곡선 $y = f(x)$ 위의 점 $(0, 2)$ 에서 곡선에 접하는 접선을 l 이라고 하자. 이때 l 과 곡선 $y = f(x)$ 는 x 좌표가 음수인 점에서 만나고, 직선 l 을 y 축에 대하여 대칭이동 시킨 직선이 $y = f(x)$ 와 접한다. $f(1) = 9$ 일 때, $f(2)$ 의 값으로 알맞은 것은? [4점]

- ① 15 ② 20 ③ 25 ④ 30 ⑤ 35



$\Rightarrow f(x) - f'(0)x - 2 = x^2(x - 2\alpha)$
 $- f(x) + f'(0)x - 2 = x(x - \alpha)^2$

$-2f'(0)x = -\alpha^2x$
 $f'(0) = \frac{\alpha^2}{2}$

$\therefore f(x) = x^2(x - 2\alpha) + \frac{\alpha^2}{2}x + 2$

$f(1) = \frac{\alpha^2}{2} - 2\alpha + 3 = 9$

$\alpha^2 - 4\alpha - 12 = 0$

$\alpha = -2, \alpha = 6$ (x , 교점의 x 좌표 < 0)

$\therefore f(2) = 4 \cdot (2 + 4) + 4 + 2 = 30.$

15. 모든 항이 정수인 수열 $\{a_n\}$ 에 대해, 모든 자연수 n 에 대하여,

$$|a_{n+2}| = |a_{n+1}| + |a_n|, \quad a_n a_{n+1} a_{n+2} < 0$$

$\hookrightarrow a_n \neq 0 (n \in \mathbb{N})$

를 만족시킨다. $a_3 = 4$ 일 때, $\sum_{n=1}^6 |a_n| - a_n$ 이 최댓값을 갖도록 하는 수열 $\{a_n\}$ 에 대하여 a_9 의 값은? [4점]

- ① 70 ② 72 ③ 74 ④ 76 ⑤ 78

$a_n a_{n+1} a_{n+2} < 0$

\hookrightarrow Case 1. 모든 a_n 이 음수 ($a_3 = 4$ 와 모순) X

\hookrightarrow Case 2. 음수항이 3번마다 나온다.

$|a_n|$ 을 먼저 나열해보자

a_n 이 0이 아닌 경우 $\Rightarrow |a_n|$ 은 자연수.

$ a_1 $	$ a_2 $	$ a_3 $	$ a_4 $	$ a_5 $	$ a_6 $
1	3	4	7	11	18
2	2	4	6	10	16
3	1	4	5	9	14

이제 $\sum_{n=1}^6 |a_n| - a_n$ 이 최대 $\Rightarrow | -3 | - (-3) + | -11 | - (-11) = 28$

따라서 $a_5 = -11 + a_6 = 18$

$a_7 = 29, a_8 = -47, a_9 = 76$

단답형

20. 최고차항의 계수가 1인 이차함수 $f(x)$ 에 대해,

함수 $g(x)$ 가 다음을 만족시킨다.

$$(x+2)g(x) = f(x) - f(2)$$

$f(x) = g(x)$ 가 서로 다른 두 실근을 가지도록 하는 $f(0)$ 의 최댓값이 존재할 때, $4g(-2)$ 의 값을 구하시오. [4점]

양변에 -2 대입: $f(-2) - f(2) = 0$

$\therefore f(0)$ 은 $x^2 + a$ 꼴

$$(x+2)g(x) = x^2 + a - 4 - a = x^2 - 4$$

$$\Rightarrow g(x) = \frac{x^2 - 4}{x+2} = x - 2 \quad (x \neq -2)$$

이때 $f(x) = x^2 + a$ 의 근의 개수는

$$x^2 + a = x - 2 \Rightarrow x^2 - x + a + 2 = 0$$

$$D = 1 - 4(a + 2) = -4a - 7 > 0$$

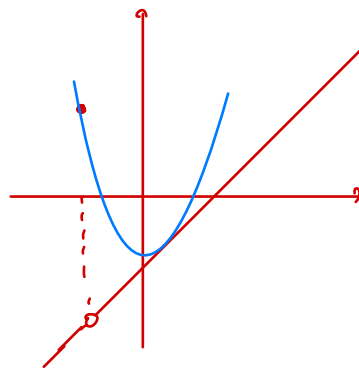
$$a < -\frac{7}{4} \quad f(0) < -\frac{7}{4}$$

등호가 없는 부등호이므로, $f(0)$ 은 최댓값을 갖지 않음.

$$\Rightarrow g(-2) = (-2)^2 - \frac{7}{4} \text{ 일때만 } a = -\frac{7}{4} \text{ 일때}$$

두 근을 가짐. (최댓값)

$$\therefore g(-2) = 4 - \frac{7}{4} = \frac{9}{4}, \quad 4g(-2) = 9$$

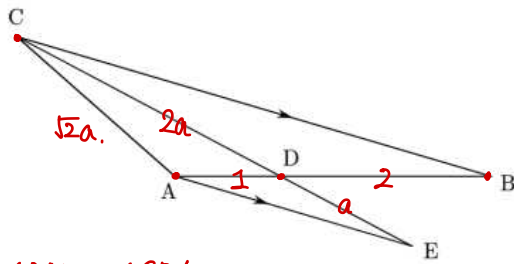


홀수형

21. 그림과 같이 삼각형 ABC에서 길이가 3인 선분 \overline{AB} 를 삼등분하는 점 중 A에 가까운 것을 D라 하자. 점 A에서 그은 선분 \overline{BC} 에 평행한 직선과, 직선 CD가 만나는 점을 E라고 할 때, 다음 조건을 만족시킨다.

- (가) 삼각형 ADE, BCA, BCD의 외접원의 반지름은 공비가 r인 등비수열을 이룬다.
- (나) 삼각형 ADC의 외접원의 넓이는 삼각형 ADE의 외접원의 넓이의 $\frac{8}{11}$ 배이다.

선분 BC의 길이를 k라 할 때, k^2 의 값을 구하시오. [4점]



평행선 $\Rightarrow \angle BAE = \angle CBA = \theta$

$$\Rightarrow \frac{DE}{\sin \theta}, \frac{AC}{\sin \theta}, \frac{CD}{\sin \theta} \text{ 가 등비}$$

$$\Leftrightarrow \overline{DE}, \overline{AC}, \overline{CD} \text{ 도 등비, } \overline{DE} = a \rightarrow \overline{AC} = ar, \overline{CD} = ar^2$$

이때, 평행선에서, $\overline{AD} : \overline{DB} = \overline{DE} : \overline{CD}$

$$\Rightarrow 2a = ar^2, \quad r = \sqrt{2}$$

$\angle CDA \equiv \alpha$ 로 두면,

$$\frac{\sqrt{2}a}{\sin \alpha} = 2r_1, \quad \frac{\overline{AE}}{\sin(\pi - \alpha)} = 2r_2$$

$$r_1^2 : r_2^2 = 8 : 11 \Rightarrow r_2 = \frac{\sqrt{11}}{2\sqrt{2}} r_1$$

$$\Rightarrow \overline{AE} = \frac{\sqrt{11}}{2\sqrt{2}} \cdot \sqrt{2}a = \frac{\sqrt{11}}{2} a$$

$$\overline{CB} = 2\overline{AE} = \sqrt{11}a.$$

이제 α 를 이용해 코사인법칙을 쓰면

$$\begin{cases} 1 + 4a^2 - 2 \cdot 2a \cdot 1 \cdot \cos \alpha = 2a^2 \\ 2 + 4a^2 - 2 \cdot 2a \cdot 2 \cdot \cos(\pi - \alpha) = 11a^2 \end{cases}$$

연립하면 $a = \sqrt{2}$ 를 얻는다. ($k = \sqrt{22}, k^2 = 22$)

5

22. 삼차함수 $f(x) = x(x-4)^2$ 에 대해, 실수 전체 집합에서 연속인 함수

$$g(x) = \begin{cases} f(x) & (f(x) \geq mx) \\ mx & (f(x) < mx) \end{cases}$$

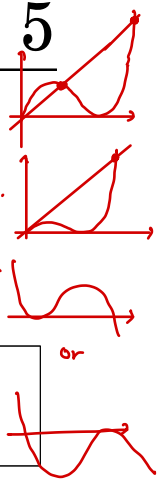
$\rightarrow f$ 는 $x > 0$ 개의 때 불가능 점을 갖는다. (단, $m > 0$ 인 실수)

와 최고차항의 계수가 음수인 삼차함수 $h(x)$ 가 다음 조건을 만족시킨다.

(가) 방정식 $h(x) = 0$ 은 서로 다른 두 양의 실근을 갖는다.

(나) $x > 0$ 에서, $g(x) - |h(x)|$ 와 $g(x)|h(x)|$ 는 오직 한 점에서만 미분가능하지 ~~않고~~, ~~미분 가능하지 않은 점의 개수가 다른 서로 다르다.~~

$h(-2)$ 의 값을 구하시오. [4점]

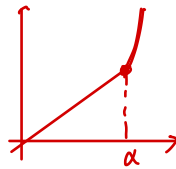


$h(x)$ 는 미분가능하지 않은 점 α 에서

$$(\text{우미분계수}) = -(\text{좌미분계수})$$



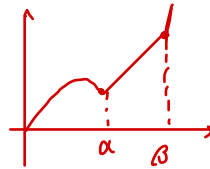
i) 만약 f의 다른 불가능 점이 오직 하나라면,



h 도 그 점에서 미분 (한개만 존재).

$g(x)|h(x)|$ 는 $x \neq \alpha$ 에서만 미분 가능하지 않으므로 (나)에 맞지 않음 (X)

ii) f의 다른 불가능 점이 두개,



이때는 $g(x) - |h(x)|$ 는 $x = \alpha$ 에서 미분계수가 0 이되어 미분 가능해야 한다.

($h(x)$ 는 미분 점에서 (우미분계수) = -(좌미분계수) 이므로, 서로 배서 미분 가능하여, g 도 미분 가능으로

$$h'(\alpha+) = g'(\alpha+) = -g'(\alpha-) = -h'(\alpha-) \text{ 를 만족시켜야 함.}$$

$$\Rightarrow \begin{cases} m\alpha = \alpha(\alpha-4)^2 \\ -m = (\alpha-4)^2 + 2\alpha(\alpha-4) \end{cases} \Rightarrow \text{연립, } \alpha = 2, m = 4.$$

이때 $g(x)|h(x)|$ 의 도함수는 $g'(x)h(x) + g(x)h'(x)$ 인데,

$x > \alpha$ 와 $x < \alpha$ 의 도함수가 다르므로 미분 불가.

즉 $g(x)h(x)$ 는 $x = \beta$ 에서 미분 가능 $\rightarrow \beta = 6$.

$$\text{따라서 } h(x) = k(x-2)(x-6)^2$$

$$h'(2) = -4 \text{ 가 되도록 } k \text{ 를 계산하면, } h(x) = -\frac{1}{4}(x-2)(x-6)^2$$

$$\therefore h(-2) = 64$$

* 확인 사항

- 답안지의 해당란에 필요한 내용을 정확히 기입(표기)했는지 확인 하시오.
- 이어서, 「선택과목(확률과 통계)」 문제가 제시되오니, 자신이 선택한 과목인지 확인하시오.

※시험이 시작되기 전까지 표지를 넘기지 마시오.