

고선수 Final '포이날' - 미분가능 특강

2009년 수능

4점

최고차항의 계수가 1인 사차함수 $f(x)$ 에 대하여 함수 $g(x)$ 가 다음 조건을 만족시킨다.

(가) $-1 \leq x < 1$ 일 때, $g(x) = f(x)$ 이다.

(나) 모든 실수 x 에 대하여 $g(x+2) = g(x)$ 이다.

옳은 것만을 <보기>에서 있는 대로 고른 것은? 1)

[보 기]

ㄱ. $f(-1) = f(1)$ 이고 $f'(-1) = f'(1)$ 이면, $g(x)$ 는 실수 전체의 집합에서 미분가능하다.

ㄴ. $g(x)$ 가 실수 전체의 집합에서 미분가능하면,
 $f'(0)f'(1) < 0$ 이다.

ㄷ. $g(x)$ 가 실수 전체의 집합에서 미분가능하고
 $f'(1) > 0$ 이면, 구간 $(-\infty, -1)$ 에 $f'(c) = 0$ 인 c 가 존재한다.

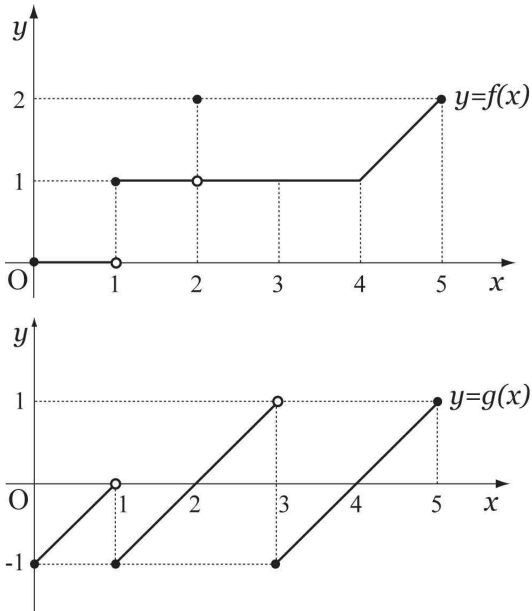
- ① ㄱ ② ㄴ ③ ㄱ, ㄷ
④ ㄴ, ㄷ ⑤ ㄱ, ㄴ, ㄷ

고선수 Final '포이날' - 미분가능 특강

2009년 교육청

4점

그림과 같이 구간 $[0, 5]$ 를 정의역으로 하는 두 함수 $f(x), g(x)$ 에 대하여 <보기>에서 옳은 것만을 있는 대로 고른 것은? 2)



[보 기]

- ㄱ. 함수 $\frac{g(x)}{f(x)}$ 는 $x=2$ 에서 연속이다.
- ㄴ. 함수 $(g \circ f)(x)$ 는 $x=1$ 에서 연속이다.
- ㄷ. 함수 $f(x)g(x)$ 는 $x=4$ 에서 미분가능하다.

- ① ㄱ ② ㄷ ③ ㄱ, ㄴ
- ④ ㄴ, ㄷ ⑤ ㄱ, ㄴ, ㄷ

고선수 Final '포이넬' - 미분가능 특강

2009년 평가원

4점

사차함수 $f(x)$ 가 다음 조건을 만족시킬 때, $\frac{f'(5)}{f'(3)}$ 의 값을 구하시오. 3)

(가) 함수 $f(x)$ 는 $x=2$ 에서 극값을 갖는다.

(나) 함수 $|f(x)-f(1)|$ 은 오직 $x=a$ ($a>2$)에서만 미분가능하지 않다.

‘내가 너의 100점을 기대해요’

by 윙구나, 고선수

고선수 Final '포이넬' - 미분가능 특강

2011년 수능

4점

최고차항의 계수가 1이고, $f(0)=3$, $f'(3)<0$ 인 사차함수 $f(x)$ 가 있다. 실수 t 에 대하여
집합 S 를 $S=\{a \mid \text{함수 } |f(x)-t| \text{가 } x=a \text{에서 미분가능하지 않다.}\}$

라 하고, 집합 S 의 원소의 개수를 $g(t)$ 라 하자. 함수 $g(t)$ 가 $t=3$ 과 $t=19$ 에서만 불연속일 때, $f(-2)$
의 값을 구하시오. 4)

‘내가 너의 100점을 기대해요‘

by 옹구나, 고선수

고선수 Final '포이날' - 미분가능 특강

2012년 평가원

4점

함수 $f(x) = x^3 - 3x^2 - 9x - 1$ 과 실수 m 에 대하여 함수 $g(x)$ 를

$$g(x) = \begin{cases} f(x) & (f(x) \geq mx) \\ mx & (f(x) < mx) \end{cases}$$

라 하자. $g(x)$ 가 실수 전체의 집합에서 미분가능할 때, m 의 값은? 5)

- ① -14 ② -12 ③ -10
④ -8 ⑤ -6

고선수 Final '포이날' - 미분가능 특강

2014년 수능

4점

좌표평면에서 삼차함수 $f(x) = x^3 + ax^2 + bx$ 와 실수 t 에 대하여 곡선 $y = f(x)$ 위의 점 $(t, f(t))$ 에서의 접선이 y 축과 만나는 점을 P 라 할 때, 원점에서 점 P 까지의 거리를 $g(t)$ 라 하자. 함수 $f(x)$ 와 함수 $g(t)$ 는 다음 조건을 만족시킨다.

(가) $f(1) = 2$

(나) 함수 $g(t)$ 는 실수 전체의 집합에서 미분가능하다.

$f(3)$ 의 값은? 6) (단, a, b 는 상수이다.)

① 21

② 24

③ 27

④ 30

⑤ 33

고선수 Final '포이날' - 미분가능 특강

2016년 수능

4점

다음 조건을 만족시키는 모든 삼차함수 $f(x)$ 에 대하여 $\frac{f'(0)}{f(0)}$ 의 최댓값을 M , 최솟값을 m 이라 하자.

Mm 의 값은? 7)

(가) 함수 $|f(x)|$ 는 $x = -1$ 에서만 미분가능하지 않다.

(나) 방정식 $f(x) = 0$ 은 닫힌구간 $[3, 5]$ 에서 적어도 하나의 실근을 갖는다.

① $\frac{1}{15}$

② $\frac{1}{10}$

③ $\frac{2}{15}$

④ $\frac{1}{6}$

⑤ $\frac{1}{5}$

고선수 Final '포이날' - 미분가능 특강

1) 정답 ③

ㄱ. 사차함수 $f(x)$ 에 대하여 주기가 2인 주기함수

$g(x)$ 가 실수전체의 집합에서 미분가능하기 위한 필요충분조건은

$f(1) = f(-1), f'(1) = f'(-1)$ (참)

ㄴ. $f(x) = x^4 + ax^3 + bx^2 + cx + d$ 라 하면

$$f(1) = 1 + a + b + c + d$$

$$f(-1) = 1 - a + b - c + d$$

$$f(1) = f(-1) \text{이므로 } a + c = 0,$$

$$\therefore c = -a$$

$$f'(x) = 4x^3 + 3ax^2 + 2bx + c \text{이고}$$

$$f'(1) = 4 + 3a + 2b + c$$

$$f'(-1) = -4 + 3a - 2b + c$$

$$f'(1) = f'(-1) \text{이므로 } 4 + 2b = 0$$

$$\therefore b = -2$$

즉, $f(x) = x^4 + ax^3 - 2x^2 - ax + d$ 이고

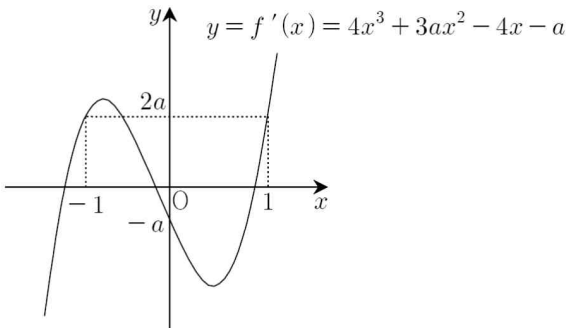
$$f'(x) = 4x^3 + 3ax^2 - 4x - a \text{이다.}$$

$$f'(0) = -a, f'(1) = 4 + 3a - 4 - a = 2a \text{이므로}$$

$$f'(0)f'(1) = -2a^2 \leq 0 \text{ (거짓)}$$

ㄷ. $f'(-1) = f'(1) = 2a$ 이고 $f'(1) > 0$ 이므로 $a > 0$

$f'(0) = -a < 0$ 이므로 $y = f'(x)$ 의 그래프는 다음과 같다.



따라서 구간 $(-\infty, -1)$ 에 $f'(c) = 0$ 인 c 가 존재한다. (참)

고선수 Final '포이날' - 미분가능 특강

2) 정답 ㉔

$$\neg. \frac{g(2)}{f(2)} = 0, \lim_{x \rightarrow 2} \frac{g(x)}{f(x)} = 0 \text{ (참)}$$

$$\sqcup. g(f(1)) = -1, \lim_{x \rightarrow 1} g(f(x)) = -1 \text{ (참)}$$

$$\sqsubset. f(x) = \begin{cases} 1 & (3 \leq x < 4) \\ x-3 & (4 \leq x \leq 5) \end{cases}$$

$$g(x) = x-4 \quad (3 \leq x \leq 5)$$

$$f(x)g(x) = \begin{cases} x-4 & (3 \leq x < 4) \\ (x-3)(x-4) & (4 \leq x \leq 5) \end{cases}$$

$$\lim_{x \rightarrow 4-0} \frac{f(x)g(x) - f(4)g(4)}{x-4} = 1$$

$$\lim_{x \rightarrow 4+0} \frac{f(x)g(x) - f(4)g(4)}{x-4} = 1 \text{ (참)}$$

고선수 Final '포이날' - 미분가능 특강

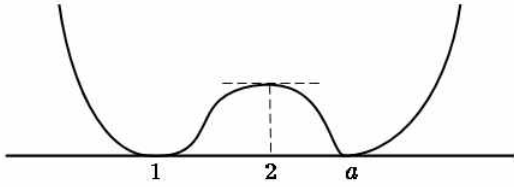
3) 정답 12

$g(x) = f(x) - f(1)$ 이라 하면

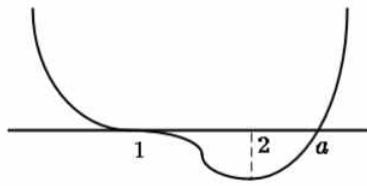
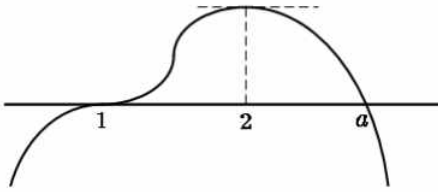
$g(1) = g'(1) = 0, g'(2) = 0$

$y = |g(x)|$ 는 $x=1$ 에서 극값을 갖는다.

따라서 (나)의 조건에 맞도록 $y = |g(x)|$ 의 그래프를 그려 보면 아래그림과 같다.



$y = g(x)$ 의 그래프는 다음 두 가지 경우에 해당한다.



$\therefore g'(x) = a(x-1)^2(x-2) = f'(x) \quad (a \neq 0)$

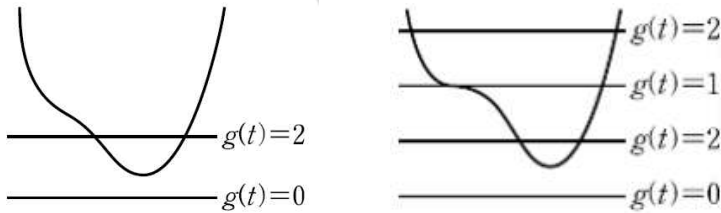
$$\frac{f'(5)}{f'(3)} = \frac{48a}{4a} = 12$$

고선수 Final '포이날' - 미분가능 특강

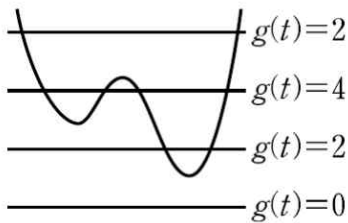
4) 정답 147

[해설]

만약 $y=f(x)$ 의 그래프가 극점을 하나만 가진다면, $g(t)$ 가 불연속인 점은 하나이거나 셋이다.



따라서 $y=f(x)$ 의 그래프는 두 개의 극솟점과 하나의 극댓점을 가진다. 또한 $y=f(x)$ 의 그래프가 두 개의 극솟값을 가지면, $g(t)$ 가 불연속인 점은 3개다.



따라서 $y=f(x)$ 의 그래프의 두 개의 극솟점의 극솟값은 같다.

$f(x) = (x-\alpha)^2(x-\beta)^2 + k$ 이고, 극솟값이 3이어야 하므로 $k=3$

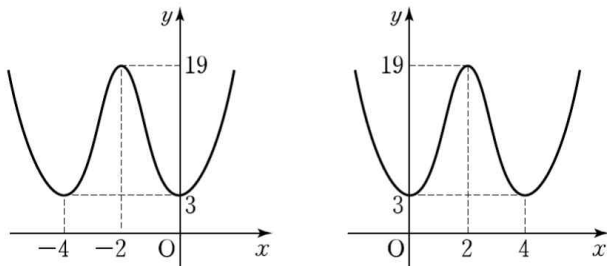
$f(x) = 3$ 의 한 근이 0 이므로 $f(x) = x^2(x-\alpha)^2 + 3$

$f'(x) = 2x(x-\alpha)^2 + 2x^2(x-\alpha) = 2x(x-\alpha)(2x-\alpha) = 0$ 에서

$$(\text{극댓값}) = f\left(\frac{\alpha}{2}\right) = \frac{\alpha^4}{16} + 3 = 19$$

$$\therefore \alpha = \pm 4$$

그런데, $\alpha = -4$ 이면 $f'(3) > 0$ 이므로 $\alpha = 4$



$$f(x) = x^2(x-4)^2 + 3, \quad f(-2) = 4 \times 36 + 3 = 147$$

고선수 Final '포이날' - 미분가능 특강

5) ②

$f(x) = mx$ 인 $x = \alpha$ 라 하면

$x = \alpha$ 에서 미분가능하므로

$$\alpha^3 - 3\alpha^2 - 9\alpha - 1 = m\alpha \dots\dots \textcircled{1}$$

$$3\alpha^2 - 6\alpha - 9 = m \dots\dots \textcircled{2}$$

$\textcircled{2}$ 을 $\textcircled{1}$ 에 대입하면 $(\alpha - 1)^2(2\alpha + 1) = 0$

$$\therefore \alpha = 1 \text{ 또는 } \alpha = -\frac{1}{2}$$

그래프를 그려보면, $\alpha = 1$ 일 때 $m = -12$ 이고 $g(x)$ 는 실수 전체의 집합에서 미분가능하지만 $\alpha = -\frac{1}{2}$ 일 때

$m = -\frac{21}{4}$ 이고 $g(x)$ 는 $x > 0$ 에서 미분불가능한 뾰족한 점이 발생한다. (그래프 생략)

따라서 $m = -12$

6) 정답 ④

접점 $(t, t^3 + at^2 + bt)$ 에서의 접선의 방정식은

$$y = (3t^2 + 2at + b)(x - t) + t^3 + at^2 + bt$$

$$y = (3t^2 + 2at + b)x - 2t^3 - at^2$$

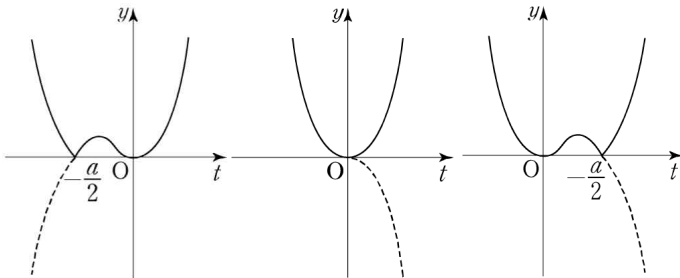
따라서 접선이 y 축과 만나는 점 P의 좌표는

$$P(0, -2t^3 - at^2)$$

원점에서 점 P까지의 거리 $g(t)$ 는

$$g(t) = |-2t^3 - at^2| = t^2 \cdot |2t + a|$$

i) $a > 0$ 일 때 ii) $a = 0$ 일 때 iii) $a < 0$ 일 때



따라서 함수 $g(t)$ 가 실수 전체의 집합에서 미분가능하려면 $y = g(t)$ 의 그래프는 t 축과 단 한 점에서 만나야 한다. 따라서 $g(0) = 0$ 이므로 $|2 \times 0 + a| = 0$

$$1. \therefore a = 0$$

조건 (가)에서 $f(1) = 1 + a + b = 2 \therefore b = 1$

$$\therefore f(x) = x^3 + x$$

$$\therefore f(3) = 3^3 + 3 = 30$$

고선수 Final '포이넬' - 미분가능 특강

7) ⑤

[출제의도] 조건에 맞는 삼차함수를 찾아 $\frac{f'(0)}{f(0)}$ 의 최댓값과 최솟값을 구할 수 있는가?

조건 (가)에 의하여

$$f(-1)=0$$

또한, 조건 (가), (나)에 의하여 함수 $y=f(x)$ 의 그래프는 닫힌 구간 $[3, 5]$ 에서 x 축과 접하게 된다.

따라서

$$f(x)=k(x+1)(x-\alpha)^2 (k \neq 0, 3 \leq \alpha \leq 5)$$

라고 하면

$$f'(x)=k(x-\alpha)^2+2k(x+1)(x-\alpha)$$

이므로

$$\frac{f'(0)}{f(0)} = \frac{k\alpha^2 - 2k\alpha}{k\alpha^2} = 1 - \frac{2}{\alpha}$$

그런데, $3 \leq \alpha \leq 5$ 이므로

$$\alpha = 3 \text{일 때 최솟값 } m = \frac{1}{3}$$

$$\alpha = 5 \text{일 때 최댓값 } M = \frac{3}{5}$$

$$\therefore Mm = \frac{3}{5} \times \frac{1}{3} = \frac{1}{5}$$